
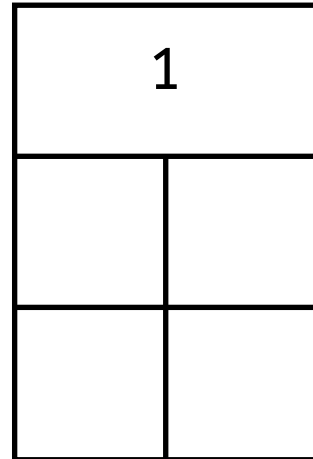


# Zahlzerlegung: 1

Wie kannst du die Zahl zerlegen?



Schreibe auf.



Schreibe als Rechnung.


	+		=	1
	+		=	1

Wir üben.

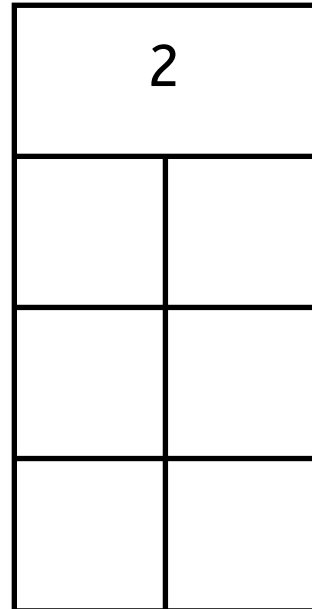
1	+		=	1
0	+		=	1

# Zahlzerlegung: 2

Wie kannst du die Zahl zerlegen?



Schreibe auf.



Schreibe als Rechnung.

	+		=	2
	+		=	2
	+		=	2

Wir üben.

	+	2	=	2
1	+		=	2
	+	0	=	2

# Zahlzerlegung: 3

Wie kannst du die Zahl zerlegen?


Schreibe auf.

3	

Schreibe als Rechnung.

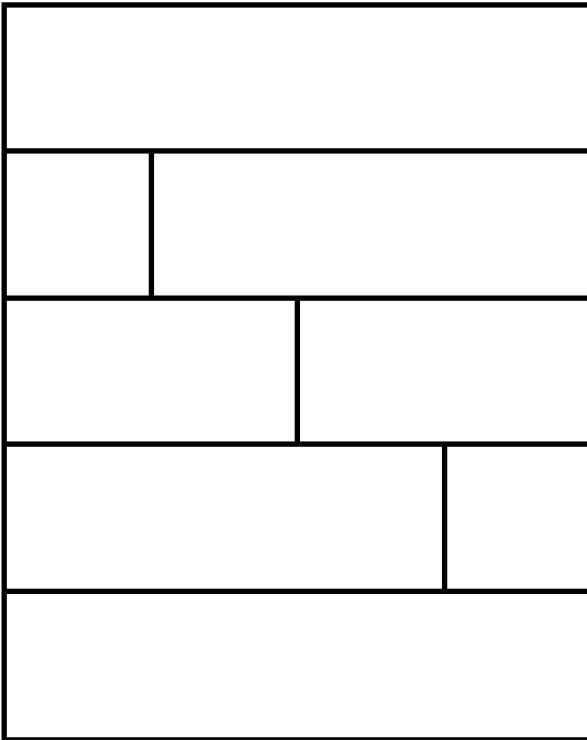
	+		=	3
	+		=	3
	+		=	3
	+		=	3

Wir üben.

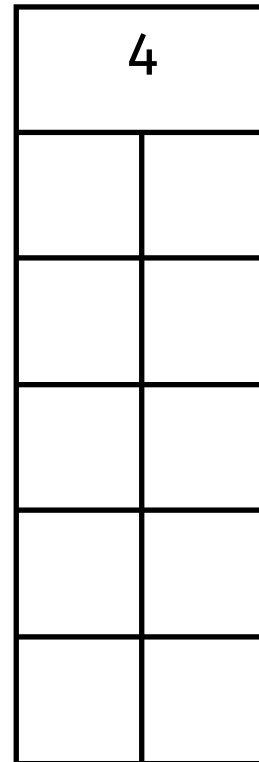
1	+		=	3
	+	0	=	3
2	+		=	3
0	+		=	3

# Zahlzerlegung: 4

Wie kannst du die Zahl zerlegen?



Schreibe auf.



Schreibe als Rechnung.

	+		=	4
	+		=	4
	+		=	4
	+		=	4
	+		=	4

Wir üben.

2	+		=	4
3	+		=	4
	+	4	=	4
1	+		=	4
	+	0	=	4

# Zahlzerlegung: 5

Wie kannst du die Zahl zerlegen?


Schreibe auf.

5	

Schreibe als Rechnung.

	+		=	5
	+		=	5
	+		=	5
	+		=	5
	+		=	5
	+		=	5

Wir üben.

5	+		=	5
	+	3	=	5
	+	4	=	5
0	+		=	5
4	+		=	5
	+	2	=	5

# Zahlzerlegung: 6

Wie kannst du die Zahl zerlegen?


Schreibe auf.

6	

Schreibe als Rechnung.

	+		=	6
	+		=	6
	+		=	6
	+		=	6
	+		=	6
	+		=	6
	+		=	6
	+		=	6

Wir üben.

5	+		=	6
6	+		=	6
	+	4	=	6
1	+		=	6
4	+		=	6
	+	3	=	6
	+	6	=	6

# Zahlzerlegung: 7

Wie kannst du die Zahl zerlegen?


Schreibe auf.

7	

Schreibe als Rechnung.

	+		=	7
	+		=	7
	+		=	7
	+		=	7
	+		=	7
	+		=	7
	+		=	7
	+		=	7
	+		=	7

Wir üben.

5	+		=	7
7	+		=	7
	+	4	=	7
	+	1	=	7
4	+		=	7
2	+		=	7
	+	6	=	7
0	+		=	7

# Zahlzerlegung: 8

Wie kannst du die Zahl zerlegen?


Schreibe auf.

8	

Schreibe als Rechnung.

	+		=	8
	+		=	8
	+		=	8
	+		=	8
	+		=	8
	+		=	8
	+		=	8
	+		=	8
	+		=	8
	+		=	8

Wir üben.

0	+		=	8
1	+		=	8
3	+		=	8
	+	8	=	8
	+	2	=	8
7	+		=	8
2	+		=	8
5	+		=	8
4	+		=	8



# Zahlzerlegung: 9

Wie kannst du die Zahl zerlegen?


Schreibe auf.

9	

Schreibe als Rechnung.

	+		=	9
	+		=	9
	+		=	9
	+		=	9
	+		=	9
	+		=	9
	+		=	9
	+		=	9
	+		=	9
	+		=	9
	+		=	9

Wir üben.

9	+		=	9
1	+		=	9
3	+		=	9
	+	9	=	9
	+	2	=	9
6	+		=	9
7	+		=	9
5	+		=	9
4	+		=	9
8	+		=	9

